

כתבו בדף המלווה את  
...התשובה שלכן

✦  
גל ודן התווכחו  
ביניהם למי יש  
אגרוף גדול יותר.  
האם תוכלו  
להציע דרך  
לבדוק את זה?  
✦





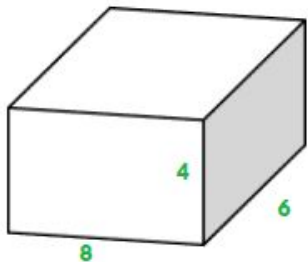
סיפור על  
אאוריקה  
עני על  
השאלות בדף



כתבו את ההגדרה  
המתאימה לדעתכן  
למילה נפת.

מדדו את הנפח של 3 החפצים הבאים:

גובה \* רוחב \* אורך = נפח תיבה



- מחק
- חת"ת
- ספר חשבון

להזכירכן, נפח מודדים כך:

# כעת, מדדו את הנפח של החפץ הבא:



בעזרת מה אפשר  
למדוד את החפץ הזה?

למה אי אפשר  
למדוד את הנפח  
של המשקפיים?


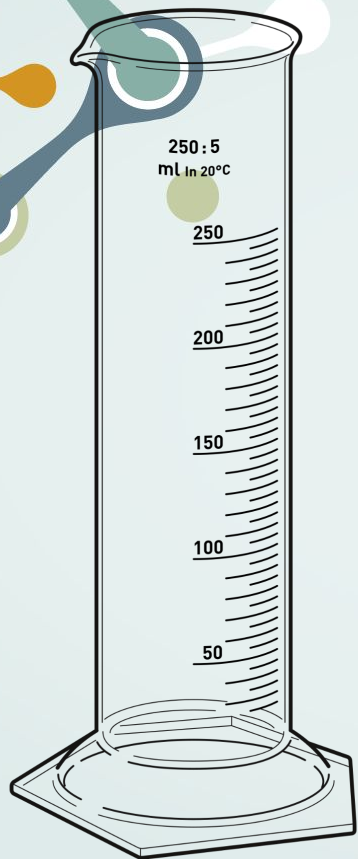


כלל בדיקת נפח של  
חפץ לא סימטרי

נפח המים אחרי הכנסה –  
נפח המים לפי הכנסה =  
נפח העצם

קישור לסרטון  
הדגמה

מה משותף?



# שאלת הפלסטלינה

